

Şekil Sayı Eşleştirme

×

= 0

→

= 4

□

= 2

+

= 6

⬠

= 3

△

= 7

☆

= 9

◇

= 8

▽

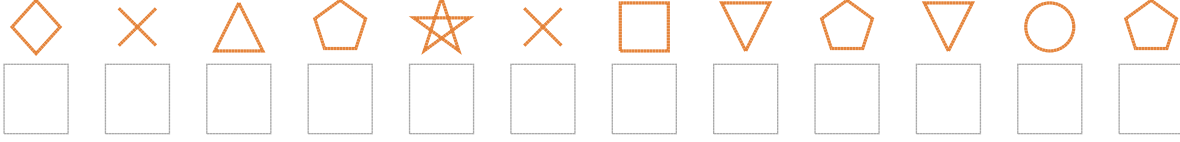
= 1

○

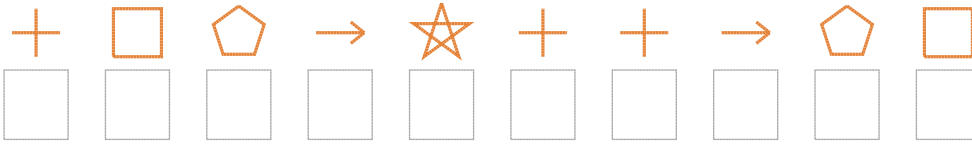
= 5

Aşağıdaki uzun şifreleri hatasız çözerek altlarına yazın:

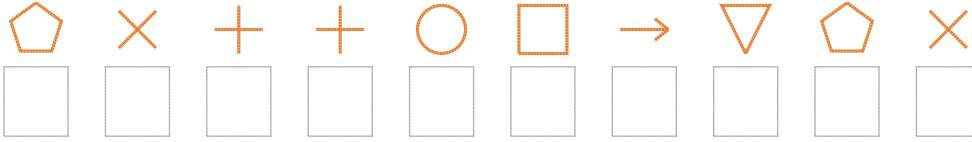
1. Şifre



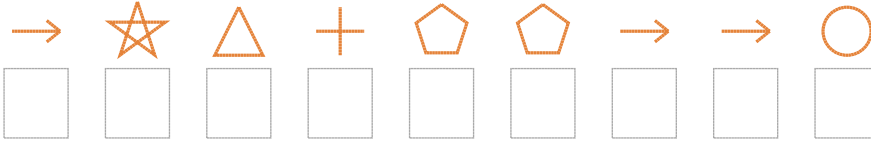
2. Şifre



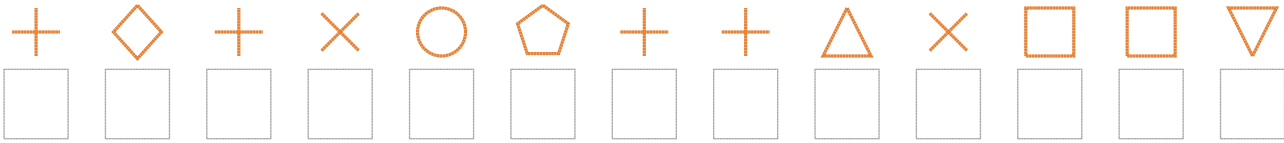
3. Şifre



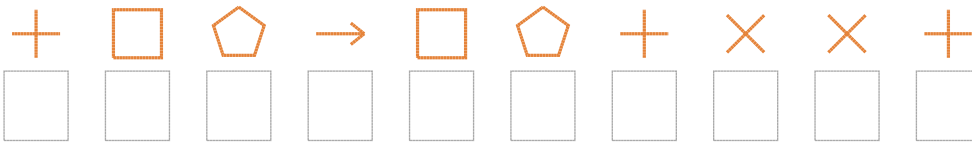
4. Şifre



5. Şifre



6. Şifre



7. Şifre



□ BONUS: 1. ve 2. şifrenin üçüncü rakamının toplamı kaçtır?

Cevap Anahtarı

1. Şifre: 807390213153
2. Şifre: 6234966432
3. Şifre: 3066524130
4. Şifre: 497633445
5. Şifre: 6860536670221
6. Şifre: 6234236006
7. Şifre: 46664927049

□ Bonus Soru Cevabı: 10